

Universidad Pedagógica y Tecnológica de Colombia - Licenciatura en Música

Prueba Específica de Admisión

Prueba Teórico-auditiva-Simulacro

***Obligatorio**

1. Nombre *

2. Correo electrónico *

3. La distancia entre dos alturas se denomina:

1 punto

Selecciona todos los que correspondan.

- Tono
- Triada
- Intervalo
- Semitono

4. Analice e identifique los siguientes intervallos y seleccione la opción que considere correcta * 1 punto



Ejemplo: 3ra menor

Selecciona todos los que correspondan.

- 2da Mayor, 7ma Mayor, 5ta Justa, 8va Justa
 2da Mayor, 7ma menor, 5ta disminuida, 8va Justa
 2da menor, 7ma menor, 4ta aumentada, 8va Justa

5. Analice e identifique las siguientes triadas y seleccione la opción que considere correcta * 1 punto



Ejemplo: Mi b Mayor

Selecciona todos los que correspondan.

- Re menor. Mi bemol menor, La Mayor, Si Mayor
 Re Mayor, Mi bemol disminuido, La Mayor, Si Aumentado
 Re Mayor, Mi bemol disminuido, La menor, Si disminuido

6. Analice la siguiente escala y seleccione la respuesta que considere correcta * 1 punto



Selecciona todos los que correspondan.

- Sol menor armónica
 Sol mayor armónica
 Sol menor melódica
 Mi bemol mayor

7. Analice el siguiente fragmento y defina la tonalidad en que se encuentra * 1 punto

Selecciona todos los que correspondan.

- Sol Mayor
 Re mayor
 Si menor
 La mayor

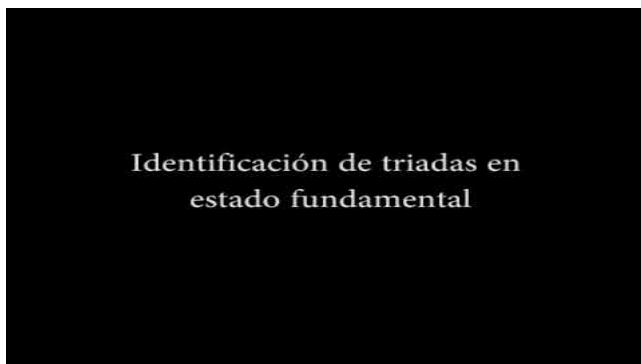
Prueba auditiva

8. Escuche atentamente e Identifique el orden en que aparecen las triadas 1 punto

Selecciona todos los que correspondan.

- Mayor, menor, aumentada, disminuida
 Disminuido, aumentado, mayor, menor
 Menor, mayor, disminuida, aumentado

Identificación de Triadas



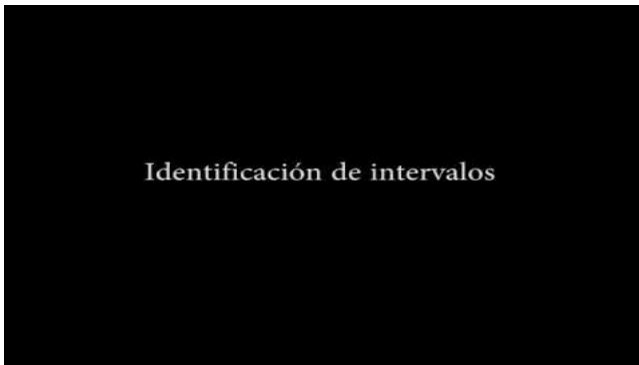
<http://youtube.com/watch?v=PmIDLNBixLk>

9. Escuche atentamente e identifique el orden en que aparecen los intervalos * 1 punto

Selecciona todos los que correspondan.

- 5ta Justa, 4ta Justa, 2da menor, 3ra Mayor, 6ta menor
 4ta Justa, 5ta Justa, 2da Mayor, 3ra menor, 8va Justa
 8va Justa, 3ra menor, 3ra Mayor, 4ta Justa, 5ta Justa

Identificación de Intervalos



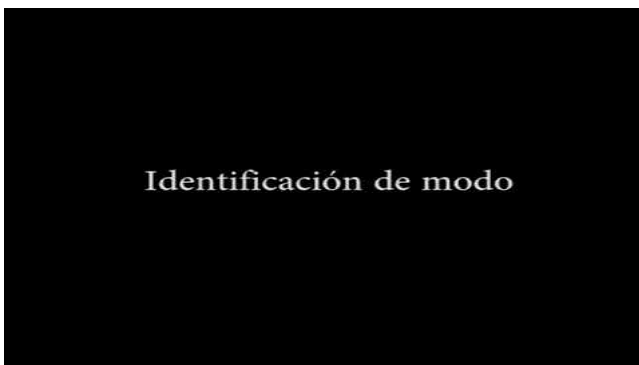
http://youtube.com/watch?v=AZy_xPcxFKc

10. Identifique el modo en que se encuentra el siguiente fragmento * 1 punto

Selecciona todos los que correspondan.

- Mayor
 Menor

Identificación de Modo



<http://youtube.com/watch?v=OTB9nWKRbKk>

11. Escuche el siguiente video y defina el compás en que se encuentra *

1 punto

Selecciona todos los que correspondan.

- 4/4
- 2/4
- 3/4
- 6/8

Identificación de Métrica



http://youtube.com/watch?v=_NuQSn-sNX0

12. Escuche y analice la siguiente melodía, seleccione la opción que considere correcta <https://talkandcomment.com/p/b88ced80f23c41583db8beee> (voice note) *

1 punto

Selecciona todos los que correspondan.

- Opción 1
- Opción 2
- Opción 3

Opción 1



